

10. Разрешено ли при таком сигнале регулировщика пешеходу (3) перейти проезжую часть дороги?



1. Разрешено.
2. Запрещено.

11. Когда пешеход может выйти на проезжую часть дороги для посадки в трамвай?



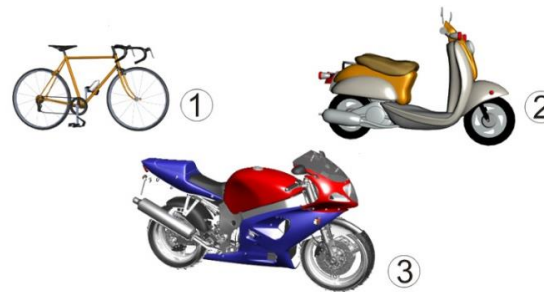
1. После полной остановки трамвая.
2. Когда трамвай начнет приближаться к остановочному пункту.

12. Кому должны подчиняться водители и пешеходы, если сигналы регулировщика противоречат сигналам светофора?

1. Только сигналам светофора.
2. Только сигналам регулировщика.

## Билет (для учащихся 7 класса)

1. На каком транспортном средстве 14-летнему подростку правила разрешают ездить по дороге?



1. На велосипеде.
2. На мотоцикле.
3. На мопеде.

2. Ты вышел из автобуса. Как безопасно перейти проезжую часть?



1. Обойти автобус сзади.
2. Обойти автобус спереди и перейти дорогу.
3. Дойти до перекрестка и там перейти дорогу.

3. Что означает этот сигнал водителя велосипеда?



1. Поворачиваю налево;
2. Поворачиваю направо;
3. Останавливаюсь.

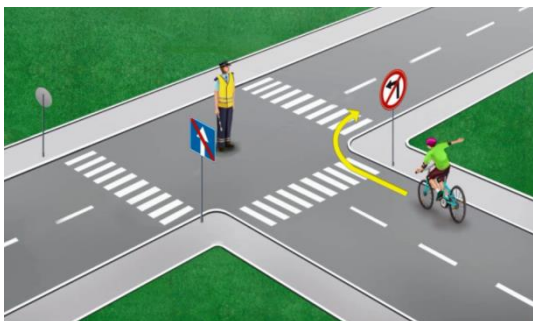
**4. Каким образом должно осуществляться движение велосипедистов в возрасте старше 14 лет?**



1. Движение осуществляется по проезжей части в один ряд возможно правее.
2. По правой полосе в любом месте.
3. Движение должно осуществляться по велосипедной, велопешеходной дорожкам


или полосе для велосипедистов, а при отсутствии возможности двигаться по ним – по правому краю проезжей части.

**5. Нарушает ли велосипедист требование сигнала регулировщика?**



1. Нарушает.
2. Не нарушает.

**6. Что означает мигание желтого сигнала светофора на перекрестке?**



1. Можно переходить нерегулируемый перекресток, соблюдая меры безопасности.
2. Переходить дорогу запрещено.

**7. Какой из знаков обозначает пешеходную дорожку?**



A



Б



В

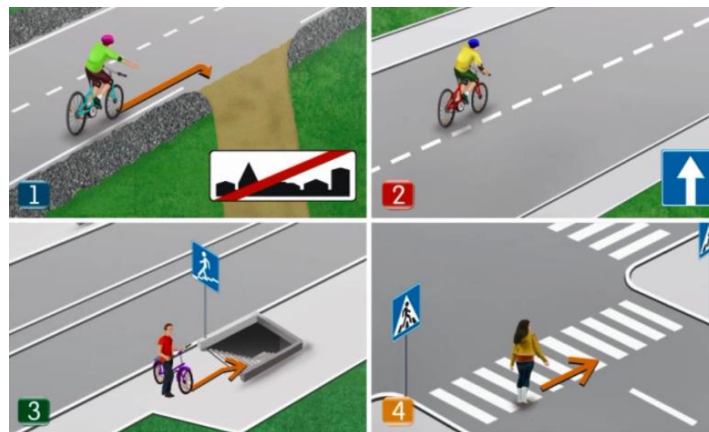
1. Только Б.
2. Б и В.
3. Все знаки.

**8. Разрешается ли движение пешеходов по велосипедной дорожке?**



1. Разрешается во всех случаях.
2. Не разрешается.
3. Разрешается, при отсутствии тротуаров, пешеходных или велопешеходных дорожек, обочин, а также в случае невозможности двигаться по ним.

**9. На каких рисунках показывают ситуации когда нарушают правила дорожного движения?**



1. на рис. №1;
2. на рис. №2;
3. на рис. №3;
4. на рис. №4.